

数学 I I型必修 II型必修 III型必修

【1】

- (1)  $x = -1 + \sqrt{5}$  を,  $x^2 + 2x - 6$  に代入すると,  
 $(-1 + \sqrt{5})^2 + 2(-1 + \sqrt{5}) - 6$   
 $= 6 - 2\sqrt{5} - 2 + 2\sqrt{5} - 6$   
 $= -2$

【別解】

$x = -1 + \sqrt{5}$  より,  
 $x + 1 = \sqrt{5}$   
 両辺2乗して,  
 $x^2 + 2x + 1 = 5$  から  
 $x^2 + 2x - 6 = (x^2 + 2x + 1) - 7$   
 $= 5 - 7 = -2$

- (2)  $y = f(x)$  のグラフを  $x$  軸方向に  $p$ ,  $y$  軸方向に  $q$  平行移動すると  $y - q = f(x - p)$  であるから,  
 $y = x^2 + ax + b$  を  $x$  軸方向に 3,  $y$  軸方向に 5 だけ平行移動したグラフの式は,

$$y - 5 = (x - 3)^2 + a(x - 3) + b$$

である。これを整理すると

$$y = x^2 + (a - 6)x + (14 - 3a + b)$$

となるので,  $y = x^2 + x$  と係数を比較して,

$$\begin{cases} a - 6 = 1 \\ 14 - 3a + b = 0 \end{cases}$$

となる。この連立方程式を解いて,  
 $a = 7, b = 7$  (両方できて正解とする)

【別解】

$y = x^2 + x$  のグラフを  $x$  軸方向に  $-3$ ,  $y$  軸方向に  $-5$  だけ平行移動して,  
 $y + 5 = (x + 3)^2 + (x + 3)$   
 で考えても良い。

数学 I I型必修 II型選択 III型選択 II型の選択は、次より2題選択 [2a] [6b] [10a] [11a]

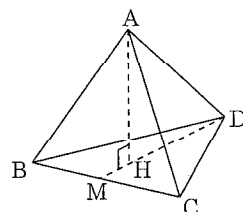
【2 a】

- (1)  $\frac{2-x}{3} < \frac{x+1}{2}$  の両辺を6倍して,  
 $4 - 2x < 3x + 3$   
 $-5x < 1$   
 $x > \frac{1}{5}$
- (2) 放物線が  $x$  軸と共有点をもたないので, 2次方程式  $x^2 - ax + a = 0$  は実数解をもたない。  
 したがって,  $x^2 - ax + a = 0$  の判別式が負になる。

$$\begin{aligned} (-a)^2 - 4 \cdot 1 \cdot a &< 0 \\ a(a-4) &< 0 \\ 0 &< a < 4 \end{aligned}$$

- (3) 1辺が2の正三角形の面積は,  
 $\frac{1}{2} \cdot 2 \cdot \sqrt{3} = \sqrt{3}$

また, 辺BCの中点をM, 頂点Aから△BCDに下ろした垂線と△BCDの交点をHとすると,  
 Hは△BCDの重心であるから



$$\begin{aligned} DH:HM &= 2:1 \\ DH &= \frac{2\sqrt{3}}{3} \end{aligned}$$

よって,  
 $AH = \sqrt{AD^2 - DH^2}$   
 $= \sqrt{2^2 - \left(\frac{2\sqrt{3}}{3}\right)^2}$   
 $= \frac{2\sqrt{6}}{3}$

正四面体の体積 =  $\frac{1}{3} \times (\text{底面積}) \times (\text{高さ})$   
 であるから, 求める体積は  
 $\frac{1}{3} \cdot \sqrt{3} \cdot \frac{2\sqrt{6}}{3} = \frac{2\sqrt{2}}{3}$

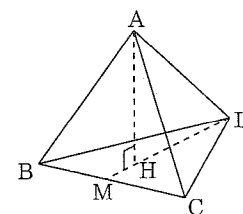
数学 I I型選択 II型選択 III型選択 III型の選択は、次より3題選択 [2b] [6c] [10b] [11b] [14] [15] [16]

【2 b】

- (1) 放物線が  $x$  軸と共有点をもたないので, 2次方程式  $x^2 - ax + a = 0$  は実数解をもたない。  
 したがって,  $x^2 - ax + a = 0$  の判別式が負になる。  
 $(-a)^2 - 4 \cdot 1 \cdot a < 0$   
 $a(a-4) < 0$   
 $0 < a < 4$
- (2) 1辺が2の正三角形の面積は,  
 $\frac{1}{2} \cdot 2 \cdot \sqrt{3} = \sqrt{3}$
- また, 辺BCの中点をM, 頂点Aから△BCDに下ろした垂線と△BCDの交点をHとすると,  
 Hは△BCDの重心であるから

$$DH:HM = 2:1$$

$$\begin{aligned} DH &= \frac{2\sqrt{3}}{3} \\ \text{よって,} \\ AH &= \sqrt{AD^2 - DH^2} \\ &= \sqrt{2^2 - \left(\frac{2\sqrt{3}}{3}\right)^2} \\ &= \frac{2\sqrt{6}}{3} \end{aligned}$$



正四面体の体積 =  $\frac{1}{3} \times (\text{底面積}) \times (\text{高さ})$   
 であるから, 求める体積は  
 $\frac{1}{3} \cdot \sqrt{3} \cdot \frac{2\sqrt{6}}{3} = \frac{2\sqrt{2}}{3}$

数学 I I型必修 II型必修 III型選択

【3】

- (i) 外接円の半径を  $R$  とすると, 正弦定理より

$$\begin{aligned} 2R &= \frac{2\sqrt{2}}{\sin 135^\circ} \\ R &= \frac{2\sqrt{2}}{2 \times \frac{\sqrt{2}}{2}} \end{aligned}$$

$$R = 2$$

- (ii) 余弦定理より,

$$\begin{aligned} AB^2 &= AC^2 + BC^2 - 2AC \cdot BC \cos C \\ AC = b \text{ として整理すると, } &b^2 + 2\sqrt{2}b - 4 = 0 \text{ となるので, } b = -\sqrt{2} \pm \sqrt{6} \\ b > 0 \text{ より, } &\sqrt{6} - \sqrt{2} \end{aligned}$$

数学 I I型必修 II型選択 III型選択

【4】

- (i) 点Aを頂点とするので, 求める2次関数は  $a$  を定数として  $y = a(x+1)^2 + 1$  と表せる。  
 点Bを通るので,  $4 = a(-4+1)^2 + 1$   
 これを解くと,  $a = \frac{1}{3}$   
 よって  $y = \frac{1}{3}(x+1)^2 + 1 = \frac{1}{3}x^2 + \frac{2}{3}x + \frac{4}{3}$
- (ii)  $x$  軸に接するので, 求める式は  $a, p$  を定数として  $y = a(x-p)^2$  と表せる。このグラフが点A, 点Bを通るので,  

$$\begin{cases} 1 = a(-1-p)^2 & \dots\dots\dots ① \\ 4 = a(-4-p)^2 & \dots\dots\dots ② \end{cases}$$
  
 が成り立つ。

$$① \times 4 \quad 4 = 4a(-1-p)^2$$

$$\begin{aligned} ② \text{ より} \\ a(-4-p)^2 &= 4a(-1-p)^2 \end{aligned}$$

これを解くと

$$p = \pm 2$$

これを①(②でもよい)に代入して

$$\begin{cases} a = \frac{1}{9}, & \begin{cases} a = 1 \\ p = -2 \end{cases} \\ p = 2 \end{cases}$$

$$\text{よって, } y = \frac{1}{9}(x-2)^2 = \frac{1}{9}x^2 - \frac{4}{9}x + \frac{4}{9}$$

$$\text{または } y = (x+2)^2 = x^2 + 4x + 4$$

数学 I I型選択 II型選択 III型選択 I型の選択は、次より1題選択 [5] [6a]

【5】

- (1)  $x^2 - 4y^2 + 4y - 1 = x^2 - (4y^2 - 4y + 1)$   
 $= x^2 - (2y-1)^2$   
 $= (x+2y-1)(x-2y+1)$

- (2)  $x^2 + 5x - 4 = 0$  を解くと

$$x = \frac{-5 \pm \sqrt{41}}{2}$$

よって

$$x \leq \frac{-5 - \sqrt{41}}{2}, \quad \frac{-5 + \sqrt{41}}{2} \leq x$$

- (3)  $\sqrt{3} \tan \theta + 3 = 0$   
 $\tan \theta = -\sqrt{3}$   
 $0^\circ \leq \theta \leq 180^\circ$  より  $\theta = 120^\circ$

- (4)  $|x-1| \leq 2$

$$-2 \leq x-1 \leq 2$$

$$-1 \leq x \leq 3$$

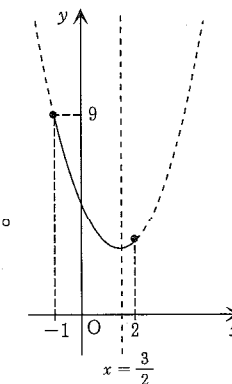
- (5)  $y = x^2 - 3x + 5$  の右辺を変形すると,

$$y = \left(x - \frac{3}{2}\right)^2 + \frac{11}{4}$$

放物線の軸は  $x = \frac{3}{2}$

最大値は  
 $x = -1$  と  $x = 2$  のうち,  
 軸から離れている方である。  
 $x = -1$  の方が軸よりも  
 離れているので, このとき  
 最大値をとる。

$$\begin{aligned} \text{よって最大値は,} \\ (-1)^2 - 3 \cdot (-1) + 5 &= 9 \end{aligned}$$



数学A I型選択 II型 III型 I型の選択は、次より1題選択【5】【6a】

【6a】

(1)  $A = \{x | x^2 - x - 6 < 0\}$   
 $= \{x | -2 < x < 3\}$

また  
 $\bar{B} = \{x | x^2 - 5x \leq 0\}$   
 $= \{x | 0 \leq x \leq 5\}$

よって、 $A \cap \bar{B} = \{x | 0 \leq x < 3\}$

(2) GW をひとつの文字と見ると、4つの同じ文字を含む7つの文字を並べる場合と考えるので、

$\frac{7!}{1!1!1!1!4!} = 210$ 通り。GWの他にWGも同様に数えられるので、求める場合の総数は  
 $210 \times 2 = 420$ 通り

(3) 一般項は  ${}_6C_r(x^2)^{6-r}(-2x)^r = {}_6C_r \cdot (-2)^r \cdot x^{12-r} \cdot x^r$ となるのは  $r=5$  のときであるから、求める係数は  ${}_6C_5 \cdot (-2)^5 = 6 \times (-32) = -192$

【別解】

$(x^2 - 2x)^6 = x^6(x-2)^6$   
 であるから、 $x^7$ の係数は  $(x-2)^6$ における  $x$ の係数と一致する。  
 したがって、求める係数は  ${}_6C_1 \cdot (-2)^5 = -192$

(4) 数字が同じになる事象を  $A$  とすると、数字が異なる事象はその余事象  $\bar{A}$  である。

よって、  
 $P(\bar{A}) = 1 - P(A) = 1 - \frac{{}_3C_2 + {}_2C_2}{{}_6C_2} = 1 - \frac{3+1}{15}$   
 $= \frac{11}{15}$

(5)  $a, b$ の各値に対して得点表を作ると、以下のようになる。

$b \backslash a$	1	2	3	4
1	2	2	4	4
2	2	4	6	8
3	4	6	6	12
4	4	8	12	16

したがって、得点  $X$  が得られる確率  $P$  として表を作ると、

得点(X)	2	4	6	8	12	16	計
確率(P)	$\frac{3}{16}$	$\frac{5}{16}$	$\frac{3}{16}$	$\frac{2}{16}$	$\frac{2}{16}$	$\frac{1}{16}$	1

よって、求める期待値は  
 $2 \cdot \frac{3}{16} + 4 \cdot \frac{5}{16} + 6 \cdot \frac{3}{16} + 8 \cdot \frac{2}{16} + 12 \cdot \frac{2}{16} + 16 \cdot \frac{1}{16}$   
 $= \frac{25}{4}$

数学A I型 II型選択 III型 II型の選択は、次より2題選択【2a】【6b】【10a】【11a】

【6b】

(1) 一般項は  ${}_6C_r(x^2)^{6-r}(-2x)^r = {}_6C_r \cdot (-2)^r \cdot x^{12-r} \cdot x^r$ となるのは  $r=5$  のときであるから、求める係数は  ${}_6C_5 \cdot (-2)^5 = 6 \times (-32) = -192$

【別解】

$(x^2 - 2x)^6 = x^6(x-2)^6$   
 であるから、 $x^7$ の係数は  $(x-2)^6$ における  $x$ の係数と一致する。  
 したがって、求める係数は  ${}_6C_1 \cdot (-2)^5 = -192$

(2) 数字が同じになる事象を  $A$  とすると、数字が異なる事象はその余事象  $\bar{A}$  である。

よって、  
 $P(\bar{A}) = 1 - P(A) = 1 - \frac{{}_3C_2 + {}_2C_2}{{}_6C_2} = 1 - \frac{3+1}{15}$   
 $= \frac{11}{15}$

(3)  $a, b$ の各値に対して得点表を作ると、以下のようになる。

$b \backslash a$	1	2	3	4
1	2	2	4	4
2	2	4	6	8
3	4	6	6	12
4	4	8	12	16

したがって、得点  $X$  が得られる確率  $P$  として表を作ると、

得点(X)	2	4	6	8	12	16	計
確率(P)	$\frac{3}{16}$	$\frac{5}{16}$	$\frac{3}{16}$	$\frac{2}{16}$	$\frac{2}{16}$	$\frac{1}{16}$	1

よって、求める期待値は

$2 \cdot \frac{3}{16} + 4 \cdot \frac{5}{16} + 6 \cdot \frac{3}{16} + 8 \cdot \frac{2}{16} + 12 \cdot \frac{2}{16} + 16 \cdot \frac{1}{16}$   
 $= \frac{25}{4}$

数学A I型 II型 III型選択 III型の選択は、次より3題選択【2b】【6c】【10b】【11b】【14】【15】【16】

【6c】

(1) 数字が同じになる事象を  $A$  とすると、数字が異なる事象はその余事象  $\bar{A}$  である。

よって、  
 $P(\bar{A}) = 1 - P(A) = 1 - \frac{{}_3C_2 + {}_2C_2}{{}_6C_2} = 1 - \frac{3+1}{15}$   
 $= \frac{11}{15}$

(2)  $a, b$ の各値に対して得点表を作ると、以下のようになる。

$b \backslash a$	1	2	3	4
1	2	2	4	4
2	2	4	6	8
3	4	6	6	12
4	4	8	12	16

したがって、得点  $X$  が得られる確率  $P$  として表を作ると、

得点(X)	2	4	6	8	12	16	計
確率(P)	$\frac{3}{16}$	$\frac{5}{16}$	$\frac{3}{16}$	$\frac{2}{16}$	$\frac{2}{16}$	$\frac{1}{16}$	1

よって、求める期待値は  
 $2 \cdot \frac{3}{16} + 4 \cdot \frac{5}{16} + 6 \cdot \frac{3}{16} + 8 \cdot \frac{2}{16} + 12 \cdot \frac{2}{16} + 16 \cdot \frac{1}{16}$   
 $= \frac{25}{4}$

数学II I型 II型必修 III型必修

【7】

① 出来上がった絵の、縦に使う枚数を  $\alpha$  枚、横に使う枚数を  $\beta$  枚、外周部分に必要な枚数を  $n$  枚とすると、

$n = 2(\alpha + \beta) - 4$

② また、 $\alpha\beta = 900$

③ ここで、 $\alpha$  と  $\beta$  を解にもつような2次方程式  $(x-\alpha)(x-\beta) = 0$  を考える。この式は展開して

$x^2 - (\alpha + \beta)x + \alpha\beta = 0$   
 と書けるので、①、②を用いて  $\alpha$  と  $\beta$  を消去すると、

$x^2 - \frac{n+4}{2}x + \frac{900}{2} = 0$

よって、 $\frac{n+4}{2} = x + \frac{900}{x}$  ( $x \neq 0$ ) — (A) となる。

④ (A)の右辺に、相加平均と相乗平均の関係を用いると、

$\frac{n+4}{2} = x + \frac{900}{x} \geq 60$  (等号成立は  $x = 30$  のとき)

⑤ 以上より、外周部分に必要な枚数  $n$  の最小数は116となり、これより少ない場合、絵の外周を黒で統一することはできない。

数学II I型 II型必修 III型

【8】

真数は正なので、 $x-2 > 0$  かつ  $x-5 > 0$

よって  
 $x > 5$  …………… ①

また、  
 $\log_2(x-2)(x-5) < 2$   
 $\log_2(x-2)(x-5) < \log_2 2^2$

底は1より大きいので、  
 $(x-2)(x-5) < 2^2$   
 $x^2 - 7x + 10 < 4$

$x^2 - 7x + 6 < 0$   
 $(x-1)(x-6) < 0$

よって  
 $1 < x < 6$  …………… ②

①、②より、 $5 < x < 6$

数学II I型 II型必修 III型必修

【9】

(i) 曲線  $y = -x^2 + 4x$  の、点  $(a, -a^2 + 4a)$  における接線の方程式は、 $y' = -2x + 4$  より

$y - (-a^2 + 4a) = (-2a + 4)(x - a)$  …… ①

これが点  $(0, 1)$  を通るので、

$1 - (-a^2 + 4a) = (-2a + 4)(0 - a)$   
 整理すると  $a^2 = 1$

よって  $a = \pm 1$  となるので、接点の座標は  $(1, 3)$  または  $(-1, -5)$

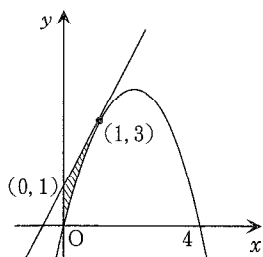
条件より、接点は第1象限にあるので、  
接点は (1, 3)

これを①に代入して、求める接線の方程式は

$$y = 2x + 1$$

(ii) 図の網掛け部分の面積を求めればよいので、これを S とすると、

$$\begin{aligned} S &= \int_0^1 \{(2x+1) - (-x^2+4x)\} dx \\ &= \int_0^1 (x^2 - 2x + 1) dx \\ &= \left[ \frac{1}{3}x^3 - x^2 + x \right]_0^1 \\ &= \frac{1}{3} \cdot 1^3 - 1^2 + 1 \\ &= \frac{1}{3} \end{aligned}$$



数学II I型 II型 III型 II型の選択は、次より2題選択【2a】【6b】【10a】【11a】

【10a】

$$\begin{aligned} (1) & \frac{(1+2i)(a+i)}{3-2i} \\ &= \frac{(1+2i)(a+i)(3+2i)}{(3-2i)(3+2i)} \\ &= \frac{(-8-a) + (8a-1)i}{13} \end{aligned}$$

これが実数となる条件は、虚数部分が0となることなので、

$$8a - 1 = 0$$

$$\text{よって } a = \frac{1}{8}$$

(2) 円  $x^2 + y^2 = 4$  と直線  $y = x + 1$  の交点を A, B, 円の中心を O とすると、 $\triangle OAB$  は二等辺三角形である。

ここで、点 O と直線  $y = x + 1$  との距離は、

$$\frac{|0-0+1|}{\sqrt{1^2+(-1)^2}} = \frac{1}{\sqrt{2}}$$

となるから、三平方の定理を用いれば、

$$AB = 2\sqrt{2^2 - \left(\frac{1}{\sqrt{2}}\right)^2} = \sqrt{14}$$

(3)  $\cos 2\theta = 1 - 2\sin^2\theta$  より

$$y = -2\sin\theta - \cos 2\theta = 2\sin^2\theta - 2\sin\theta - 1$$

$$t = \sin\theta \quad (-1 \leq t \leq 1) \text{ として}$$

$$y = 2t^2 - 2t - 1$$

$$= 2\left(t - \frac{1}{2}\right)^2 - \frac{3}{2}$$

よって y は  $t = \frac{1}{2}$  のとき、

すなわち  $\theta = \frac{\pi}{6}$  または  $\frac{5\pi}{6}$  のときに

最小値  $-\frac{3}{2}$  をとる。

数学II I型 II型 III型 III型の選択は、次より3題選択【2b】【6c】【10b】【11b】【14】【15】【16】

【10b】

(1) 円  $x^2 + y^2 = 4$  と直線  $y = x + 1$  の交点を A, B, 円の中心を O とすると、 $\triangle OAB$  は二等辺三角形である。

ここで、点 O と直線  $y = x + 1$  との距離は、

$$\frac{|0-0+1|}{\sqrt{1^2+(-1)^2}} = \frac{1}{\sqrt{2}}$$

となるから、三平方の定理を用いれば、

$$AB = 2\sqrt{2^2 - \left(\frac{1}{\sqrt{2}}\right)^2} = \sqrt{14}$$

(2)  $\cos 2\theta = 1 - 2\sin^2\theta$  より

$$y = -2\sin\theta - \cos 2\theta = 2\sin^2\theta - 2\sin\theta - 1$$

$$t = \sin\theta \quad (-1 \leq t \leq 1) \text{ として}$$

$$y = 2t^2 - 2t - 1$$

$$= 2\left(t - \frac{1}{2}\right)^2 - \frac{3}{2}$$

よって y は  $t = \frac{1}{2}$  のとき、

すなわち  $\theta = \frac{\pi}{6}$  または  $\frac{5\pi}{6}$  のときに

最小値  $-\frac{3}{2}$  をとる。

数学B I型 II型 III型 II型の選択は、次より2題選択【2a】【6b】【10a】【11a】

【11a】

(1)  $\vec{CA} = (-3, -1, 2), \vec{CB} = (-1, -5, -4)$

より、

$$|\vec{CA}| = \sqrt{(-3)^2 + (-1)^2 + 2^2} = \sqrt{14}$$

$$|\vec{CB}| = \sqrt{(-1)^2 + (-5)^2 + (-4)^2} = \sqrt{42}$$

$$\cos C = \frac{\vec{CA} \cdot \vec{CB}}{|\vec{CA}| |\vec{CB}|} = \frac{3+5-8}{\sqrt{14} \cdot \sqrt{42}} = 0$$

よって、 $\angle C = 90^\circ$

【別解】

$$\vec{CA} \cdot \vec{CB} = 0 \text{ より } \angle C = 90^\circ$$

(2) 漸化式  $a_{n+1} = 4a_n + 3$  を変形すると

$$a_{n+1} + 1 = 4(a_n + 1)$$

$b_n = a_n + 1$  とすると

$$b_{n+1} = 4b_n$$

これは公比4の等比数列であるから、

初項  $b_1 = a_1 + 1 = 2$  を用いて、

$$b_n = b_1 \cdot 4^{n-1} = 2 \cdot 4^{n-1}$$

となる。

よって、 $a_n = b_n - 1 = 2 \cdot 4^{n-1} - 1$

(3) 条件より、 $\vec{AM} = \frac{1}{2}\vec{AB}$

$$\vec{AP} = \frac{4}{5}\vec{AM} + \frac{1}{5}\vec{AC}$$

よって  $\vec{AP} = \frac{2}{5}\vec{AB} + \frac{1}{5}\vec{AC}$

A, P, Q は一直線上にあるので

$$\begin{aligned} \vec{AQ} &= k\vec{AP} \\ &= \frac{2}{5}k\vec{AB} + \frac{1}{5}k\vec{AC} \dots\dots ① \end{aligned}$$

BQ:QC = (1-s):s とすると

$$\vec{AQ} = s\vec{AB} + (1-s)\vec{AC} \dots\dots ②$$

$\vec{AB}$  と  $\vec{AC}$  は、 $\vec{0}$  でなく平行ではないので、①、②

から

$$\begin{cases} s = \frac{2}{5}k \dots\dots ③ \\ 1-s = \frac{1}{5}k \dots\dots ④ \end{cases}$$

$$\text{③, ④より } 1 - \frac{2}{5}k = \frac{1}{5}k$$

$$\frac{3}{5}k = 1$$

$$k = \frac{5}{3}$$

①に戻して

$$\vec{AQ} = \frac{2}{3}\vec{AB} + \frac{1}{3}\vec{AC}$$

数学B I型 II型 III型 III型の選択は、次より3題選択【2b】【6c】【10b】【11b】【14】【15】【16】

【11b】

(1) 漸化式  $a_{n+1} = 4a_n + 3$  を変形すると

$$a_{n+1} + 1 = 4(a_n + 1)$$

$b_n = a_n + 1$  とすると

$$b_{n+1} = 4b_n$$

これは公比4の等比数列であるから、

初項  $b_1 = a_1 + 1 = 2$  を用いて、

$$b_n = b_1 \cdot 4^{n-1} = 2 \cdot 4^{n-1}$$

となる。

よって、 $a_n = b_n - 1 = 2 \cdot 4^{n-1} - 1$

(2) 条件より、 $\vec{AM} = \frac{1}{2}\vec{AB}$

$$\vec{AP} = \frac{4}{5}\vec{AM} + \frac{1}{5}\vec{AC}$$

よって  $\vec{AP} = \frac{2}{5}\vec{AB} + \frac{1}{5}\vec{AC}$

A, P, Q は一直線上にあるので

$$\begin{aligned} \vec{AQ} &= k\vec{AP} \\ &= \frac{2}{5}k\vec{AB} + \frac{1}{5}k\vec{AC} \dots\dots ① \end{aligned}$$

BQ:QC = (1-s):s とすると

$$\vec{AQ} = s\vec{AB} + (1-s)\vec{AC} \dots\dots ②$$

$\vec{AB}$  と  $\vec{AC}$  は、 $\vec{0}$  でなく平行ではないので、①、②

から

$$\begin{cases} s = \frac{2}{5}k \dots\dots ③ \\ 1-s = \frac{1}{5}k \dots\dots ④ \end{cases}$$

$$\text{③, ④より } 1 - \frac{2}{5}k = \frac{1}{5}k$$

$$\frac{3}{5}k = 1$$

$$k = \frac{5}{3}$$

①に戻して

$$\vec{AQ} = \frac{2}{3}\vec{AB} + \frac{1}{3}\vec{AC}$$

数学III I型 II型 III型 必修

【12】

$$\frac{dx}{dt} = -3\sin t \cos^2 t, \quad \frac{dy}{dt} = 3\sin^2 t \cos t \text{ より}$$

$$\frac{dy}{dx} = \frac{\frac{dy}{dt}}{\frac{dx}{dt}} = \frac{3\sin^2 t \cos t}{-3\sin t \cos^2 t} = \underline{\underline{-\tan t}}$$

数学 III I型 II型 III型必修

【13】

(i)  $y' = \frac{(x^2)'e^x - x^2(e^x)'}{(e^x)^2} = \frac{x(2-x)}{e^x}$  より、

$y' = 0$  となるのは  $x = 0, 2$  のときである。  
よって、増減表は以下の通り。

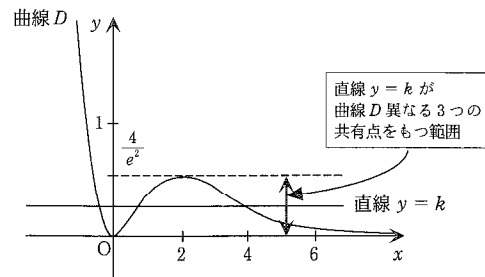
$x$	.....	0	.....	2	.....
$y'$	-	0	+	0	-
$y$	↘	0	↗	$\frac{4}{e^2}$	↘

ゆえに求める極値は

極大値  $\frac{4}{e^2}$  ( $x = 2$ ), 極小値  $0$  ( $x = 0$ )

(ii)  $\lim_{x \rightarrow -\infty} \frac{x^2}{e^x} = +\infty, \lim_{x \rightarrow \infty} \frac{x^2}{e^x} = 0$  より曲線  $D$  の

グラフは下図のようになる。



求める範囲は  $0 < k < \frac{4}{e^2}$

数学 III I型 II型 III型選択

【14】

(1)  $\lim_{x \rightarrow 0} \frac{x \tan x}{1 - \cos x}$   
 $= \lim_{x \rightarrow 0} \frac{x \tan x (1 + \cos x)}{(1 - \cos x)(1 + \cos x)}$   
 $= \lim_{x \rightarrow 0} \frac{x \tan x + x \sin x}{\sin^2 x}$   
 $= \lim_{x \rightarrow 0} \left( \frac{x}{\sin x \cos x} + \frac{x}{\sin x} \right)$   
 $= \frac{2}{1}$

(2) 部分積分を用いて、

$\int_1^{e^2} x^2 \log x dx$   
 $= \left[ \frac{1}{3} x^3 \log x \right]_1^{e^2} - \frac{1}{3} \int_1^{e^2} x^2 dx$   
 $= \frac{1}{3} e^6 \log e^2 - 0 - \frac{1}{3} \left[ \frac{1}{3} x^3 \right]_1^{e^2}$   
 $= \frac{2}{3} e^6 - \frac{1}{9} (e^6 - 1)$   
 $= \frac{5e^6 + 1}{9}$

数学 C I型 II型 III型選択

【15】

(1)  $AX = \begin{pmatrix} 1 & -2 \\ 2 & -1 \end{pmatrix} \begin{pmatrix} a & 3 \\ b & 4 \end{pmatrix}$   
 $= \begin{pmatrix} a-2b & -5 \\ 2a-b & 2 \end{pmatrix}$

$XA = \begin{pmatrix} a & 3 \\ b & 4 \end{pmatrix} \begin{pmatrix} 1 & -2 \\ 2 & -1 \end{pmatrix}$   
 $= \begin{pmatrix} a+6 & -2a-3 \\ b+8 & -2b-4 \end{pmatrix}$

各成分を比較して、 $a = 1, b = -3$

(2)  $y^2 - 6y - 4x + 9 = 0$  を変形して  $(y-3)^2 = 4x$   
 これは放物線  $y^2 = 4x$  を  $y$  軸方向に 3  
 平行移動したものである。  
 $y^2 = 4x$  の焦点は  $(1, 0)$ , 準線は  $x = -1$   
 であるから、求める焦点は  $(1, 3)$ ,  
 準線は  $x = -1$  である。

数学 I型 II型 III型選択

【16】

(1) 無限級数  $\sum_{n=1}^{\infty} \frac{1}{n(n+2)}$  の第  $n$  項の部分 and は、

$\sum_{k=1}^n \frac{1}{k(k+2)}$   
 $= \sum_{k=1}^n \frac{1}{2} \left( \frac{1}{k} - \frac{1}{k+2} \right)$   
 $= \frac{1}{2} \sum_{k=1}^n \left( \frac{1}{k} - \frac{1}{k+2} \right)$   
 $= \frac{1}{2} \left\{ \left( \frac{1}{1} - \frac{1}{3} \right) + \left( \frac{1}{2} - \frac{1}{4} \right) + \left( \frac{1}{3} - \frac{1}{5} \right) + \dots \right.$   
 $\left. + \left( \frac{1}{n-2} - \frac{1}{n} \right) + \left( \frac{1}{n-1} - \frac{1}{n+1} \right) \right.$   
 $\left. + \left( \frac{1}{n} - \frac{1}{n+2} \right) \right\}$   
 $= \frac{1}{2} \left( \frac{1}{1} + \frac{1}{2} - \frac{1}{n+1} - \frac{1}{n+2} \right)$

よって

$\sum_{n=1}^{\infty} \frac{1}{n(n+2)}$   
 $= \lim_{n \rightarrow \infty} \sum_{k=1}^n \frac{1}{k(k+2)}$   
 $= \lim_{n \rightarrow \infty} \frac{1}{2} \left( \frac{1}{1} + \frac{1}{2} - \frac{1}{n+1} - \frac{1}{n+2} \right)$   
 $= \frac{1}{2} \left( \frac{1}{1} + \frac{1}{2} - 0 - 0 \right)$   
 $= \frac{3}{4}$

(2)  $A - kE = \begin{pmatrix} 4-k & -3 \\ 2 & -1-k \end{pmatrix}$

一般に、行列  $\begin{pmatrix} a & b \\ c & d \end{pmatrix}$  が逆行列をもたないための

必要十分条件は  $ad - bc = 0$  であるから、

$(4-k)(-1-k) - (-3) \cdot 2 = 0$

整理すると

$(k-1)(k-2) = 0$

よって、 $k = 1, 2$